

3 Laplacetransformen

3.1 Den enkelsidiga laplacetransformen

3.1.1 Beräkna laplacetransformen, med tillhörande konvergensområde, av följande signaler:

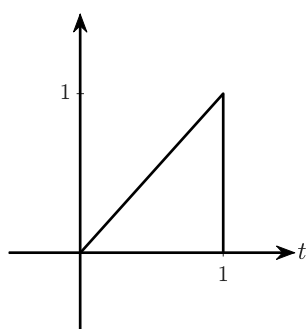
a) $x_a(t) = u(t) - u(t - 1)$

b) $x_b(t) = te^{-t}u(t)$

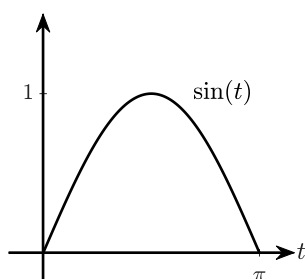
c) $x_c(t) = t \cos(\omega_0 t)u(t)$

d) $x_d(t) = (e^{2t} - 2e^{-t})u(t)$

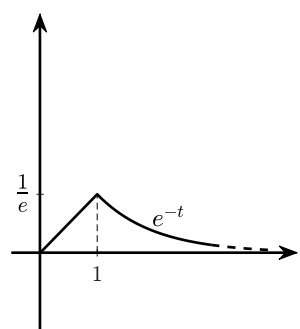
3.1.2 Beräkna laplacetransformen, med tillhörande konvergensområde, av de tre signalerna i graferna nedan. Beteckna de tre signalerna med $v(t)$, $w(t)$ respektive $x(t)$.



(a)



(b)



(c)

3.1.3 Bestäm de inversa laplacetransformerna av följande *enkelsidiga* laplacetransformer:

a) $X_1(s) = \frac{2s + 5}{s^2 + 5s + 6}$

b) $X_2(s) = \frac{3s + 5}{s^2 + 4s + 13}$

c) $X_3(s) = \frac{(s + 1)^2}{s^2 - s - 6}$

d) $X_4(s) = \frac{5}{s^2(s + 2)}$

e) $X_5(s) = \frac{2s + 1}{(s + 1)(s^2 + 2s + 2)}$

f) $X_6(s) = \frac{s + 2}{s(s + 1)^2}$

3.2 Egenskaper hos laplacetransformen

3.2.1 Bestäm laplacetransformerna av nedanstående signaler genom att endast använda lämpliga transformpar i formelsamlingens Tabell 5 och, vid behov, tidsförskjutningsegenskapen i Tabell 4:5.

a) $x_1(t) = u(t) - u(t - 1)$

b) $x_2(t) = e^{-(t-\tau)}u(t - \tau)$

c) $x_3(t) = e^{-(t-\tau)}u(t)$

- 3.2.2** Bestäm laplacetransformerna av signalerna i uppgift 3.1.2 med hjälp av lämpliga transformpar i formelsamlingen Tabell 5 och, vid behov, tidsförskjutningsegenskapen i Tabell 4:5.

3.3 Lösning av differentialekvation m.h.a. laplacetransformen

- 3.3.1** Lös följande differentialekvationer med hjälp av den enkelsidiga laplacetransformen:

$$\begin{aligned} \text{a)} \quad & \frac{d^2 y(t)}{dt^2} + 3 \frac{dy(t)}{dt} + 2y(t) = \frac{dx(t)}{dt} \quad \text{med } y(0^-) = y'(0^-) = 0 \text{ och } x(t) = u(t) \\ \text{b)} \quad & \frac{d^2 y(t)}{dt^2} + 4 \frac{dy(t)}{dt} + 4y(t) = \frac{dx(t)}{dt} + x(t) \quad \text{med } y(0^-) = 2, y'(0^-) = 1 \text{ och } x(t) = e^{-t}u(t) \end{aligned}$$

3.4 Den dubbelsidiga laplacetransformen

- 3.4.1** Bestäm konvergensområdet (om det existerar) för den dubbelsidiga laplacetransformen av följande signaler:

$$\text{a)} \quad x(t) = e^{tu(t)} \qquad \text{b)} \quad x(t) = e^{-tu(t)}$$

- 3.4.2** Bestäm den dubbelsidiga laplacetransformen och konvergensområde för följande signaler:

$$\text{a)} \quad x_a(t) = e^{-|t|} \qquad \text{b)} \quad x_b(t) = e^{-|t|} \cos(t) \qquad \text{c)} \quad x_c(t) = e^t u(t) + e^{2t} u_0(-t)$$

- 3.4.3** Bestäm den inversa laplacetransformen av följande funktioner, där $\sigma = \text{Re}\{s\}$:

$$\text{a)} \quad X_a(s) = \frac{2s + 5}{(s + 2)(s + 3)}, \quad -3 < \sigma < -2 \qquad \text{b)} \quad X_b(s) = \frac{2s - 5}{(s - 2)(s - 3)}, \quad 2 < \sigma < 3$$

$$\text{c)} \quad X_c(s) = \frac{2s + 3}{(s + 1)(s + 2)}, \quad \sigma > -1 \qquad \text{d)} \quad X_d(s) = \frac{2s + 3}{(s + 1)(s + 2)}, \quad \sigma < -2$$

$$\text{e)} \quad X_e(s) = \frac{3s^2 - 2s - 17}{(s + 1)(s + 3)(s - 5)}, \quad -1 < \sigma < 5$$